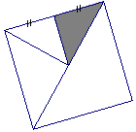
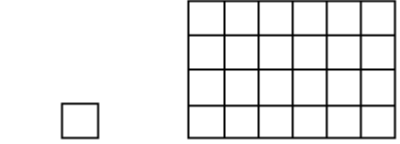


	Questions :	Réponses :	Pts
21	Avec 10€, j'achète un livre à 6,90€. Combien me rend-on ? €	
22	Le chiffre des unités de 16×23 est		
23	Quelle fraction du carré est coloriée ? 		
24	7h 15 min = min	
25	$356 - 38 =$		
26	12 petits pains coûtent 2 €. Combien coûtent 18 petits pains ?€	
27	Encadre 48,23 par deux entiers consécutifs.<48,23<.....	
28	$58,9 \div 100 =$		
29	Complète	750 mL + mL = 1L	
30	Quelle est l'aire du rectangle ?  1 unité d'aire unités d'aire	

Nom :

Prénom :

Date de naissance :/...../..... Ecole :

FINALE - CM2

Session 2019

- L'épreuve est constituée de 30 questions.

Les calculatrices sont interdites.



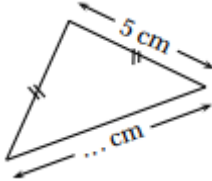

- Durée : **9 minutes**
- Écrire votre nom, votre prénom et votre classe sur cette feuille et attendre le signal de départ.

Des nombres et vous



SCORE :
..... / 30

	Questions :	Réponses :	Pts
1	$6 \times 7 =$		
2	$36 \div 4 =$		
3	La moitié de 48		
4	$834 + 199 =$		
5	Le quart de 8		
6	Ajoute une demi-heure à 1h40minh.....min	
7	$3,4 \times 1\,000 =$		
8	Complète par le bon nombre	$4,7 + \dots = 5$	
9	Donne l'écriture décimale de $(7 \times 10) + \left(3 \times \frac{1}{100}\right)$		
10	$101 + 75 + 99 + 25 =$		

	Questions :	Réponses :	Pts
11	$4,8 + 2,3 =$		
12	$3 - 1,7 =$		
13	$1,2 \times 6 =$		
14	Entoure le nombre égal à 23 dizaines et 4 unités	23,4 234 27	
15	Complète	12L =dL	
16	Le périmètre de ce triangle isocèle est égal à 17cm. Complète		
17	Dans 200, combien y a-t-il de fois 25 ?		
18	 Donne la fraction du disque qui est grisée.		
19	$5 \times 25 \times 8 \times 2 =$		
20	2 ananas coûtent 1,20€. Quel est le prix de 6 ananas ? €	