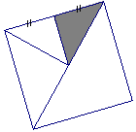
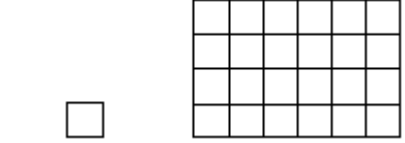
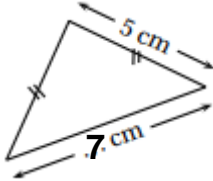



	Questions :	Réponses :
21	Avec 10€, j'achète un livre à 6,90€. Combien me rend-on ?	<b>3,10 €</b>
22	Le chiffre des unités de $16 \times 23$ est	<b>8</b>
23	Quelle fraction du carré est coloriée ? 	<b><math>\frac{1}{8}</math></b>
24	7h 15 min =	<b>435 min</b>
25	$356 - 38 =$	<b>318</b>
26	12 petits pains coûtent 2 €. Combien coûtent 18 petits pains ?	<b>3 €</b>
27	Encadre 48,23 par deux entiers consécutifs.	<b><math>48 &lt; 48,23 &lt; 49</math></b>
28	$58,9 \div 100 =$	<b>0,589</b>
29	Complète	750mL + <b>250</b> mL = 1L
30	Quelle est l'aire du rectangle ?  1 unité d'aire	<b>24</b> unités d'aire

# ***CORRECTION FINALE - CM2 Session 2019***



	Questions :	Réponses :
1	$6 \times 7 =$	<b>42</b>
2	$36 \div 4 =$	<b>9</b>
3	La moitié de 48	<b>24</b>
4	$834 + 199 =$	<b>1 033</b>
5	Le quart de 8	<b>2</b>
6	Ajoute une demi-heure à 1h40min	<b>2h10min</b>
7	$3,4 \times 1\ 000 =$	<b>3 400</b>
8	Complète par le bon nombre	$4,7 + \mathbf{0,3} = 5$
9	Donne l'écriture décimale de $(7 \times 10) + \left(3 \times \frac{1}{100}\right)$	<b>70,03</b>
10	$101 + 75 + 99 + 25 =$	<b>300</b>

	Questions :	Réponses :
11	$4,8 + 2,3 =$	<b>7,1</b>
12	$3 - 1,7 =$	<b>1,3</b>
13	$1,2 \times 6 =$	<b>7,2</b>
14	Entoure le nombre égal à 23 dizaines et 4 unités	23,4 <b>234</b> 27
15	Complète	12L = <b>120</b> dL
16	Le périmètre de ce triangle isocèle est égal à 17cm. Complète	
17	Dans 200, combien y a-t-il de fois 25 ?	<b>8</b>
18	 Donne la fraction du disque qui est grisée.	<b><math>\frac{1}{3}</math></b>
19	$5 \times 25 \times 8 \times 2 =$	<b>2 000</b>
20	2 ananas coûtent 1,20€. Quel est le prix de 6 ananas ?	<b>3,60 €</b>